



# Magie der Mathematik Von der Verblüffung zum Verstehen

René Schelldorfer, Pädagogische Hochschule Zürich



## Magie der Mathematik: Eine Darbietung in fünf Nummern

- ① Die Nummer mit den Zahlenkarten
- ② Die Nummer mit den störrischen Pferden
- ③ Die Nummer mit der fallenden Leiter
- ④ Die Nummer mit der verschwindenden Fläche
- ⑤ Die Nummer mit dem Seil



① Die Nummer mit den Zahlenkarten *oder*  
**Mathematische Zaubertricks sind beliebt.**

## Die Nummer mit den Zahlenkarten – Erstbegegnung im Jahr 1976 auf dem Pausenplatz...



## Die Nummer mit den Zahlenkarten

64 65 66 67 68

69 70 71 72 73

74 75 76 77 78

79 80 81 82 83

84 85 86 87 88 89

90 91 92 93 94 95

96 97 98 99 100

Denke dir eine Zahl  
von 1 bis 100.

Ist die Zahl auf der  
Zahlenkarte?

**Ja / Nein.**



## Die Nummer mit den Zahlenkarten – Die Erklärung

64 65 66 67 68  
69 70 71 72 73  
74 75 76 77 78  
79 80 81 82 83  
84 85 86 87 88 89  
90 91 92 93 94 95  
96 97 98 99 100

Feststellung:

Jede Karte beginnt mit der tiefsten Zahl.

Diese **Basiszahlen** sind 1, 2, 4, 8, 16, 32 und 64 (sogenannte **Zweierpotenzen**).

Der Zauberer zählt die Basiszahlen der Karten mit «Ja» zusammen und erhält die gedachte Zahl.

## Die Nummer mit den Zahlenkarten – Die Erklärung

Jede Zahl von 1 bis 100 kann als **Summe aus den Basiszahlen** 1, 2, 4, 8, 16, 32 und 64 dargestellt werden.

**1** = 1 → auf Zahlenkarte ①

**2** = 2 → auf Zahlenkarte ②

**3** = 1 + 2 → auf Zahlenkarten ①, ②

**4** = 4 → auf Zahlenkarte ④

**5** = 1 + 4 → auf Zahlenkarten ①, ④

...

**15** = 1 + 2 + 4 + 8 → auf Zahlenkarten ①, ②, ④, ⑧

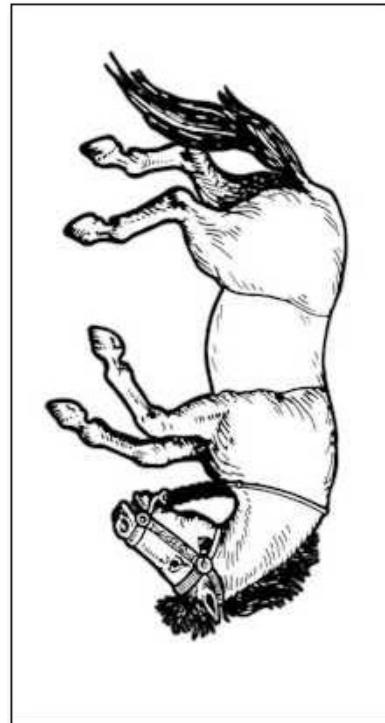
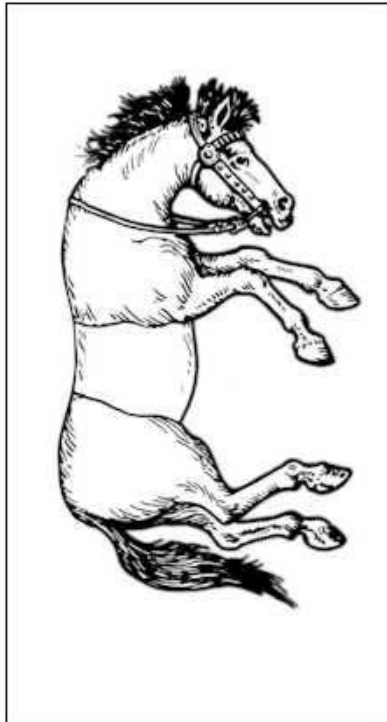
...

**54** = 2 + 4 + 16 + 32 → auf Zahlenkarten ②, ④, ①⑥, ③②

② Die Nummer mit den störrischen Pferden:  
**Knobeln mit Material gefällt.**



## Die Nummer mit den störrischen Pferden



### Aufgabe

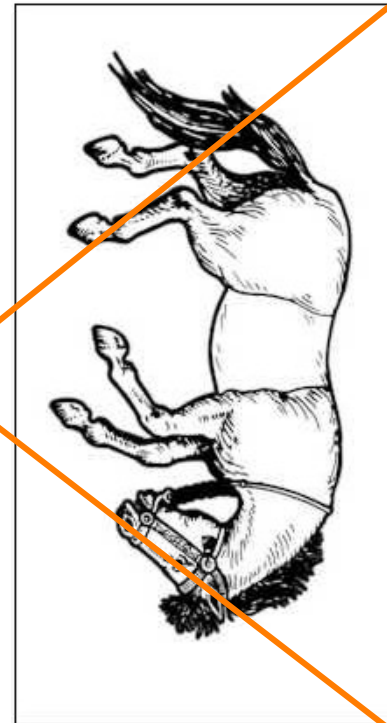
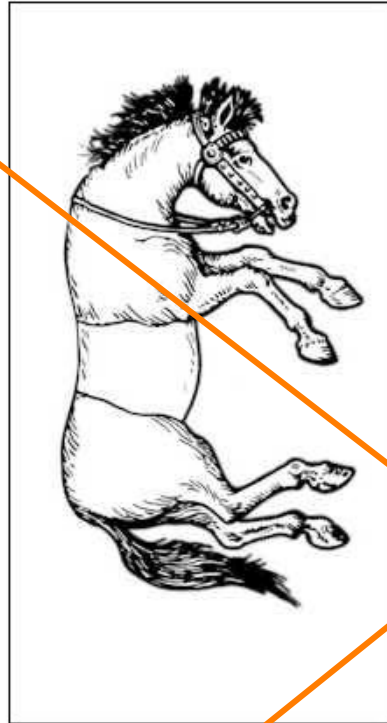
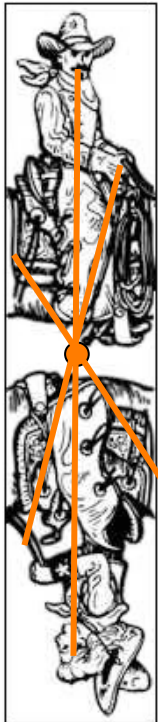
Ordne die Karten so an, dass jeder Reiter in korrekter Sitzposition auf einem Pferd sitzt.

Quelle:

*Sam Loyd*,  
"Trick Mules Puzzle", 1872

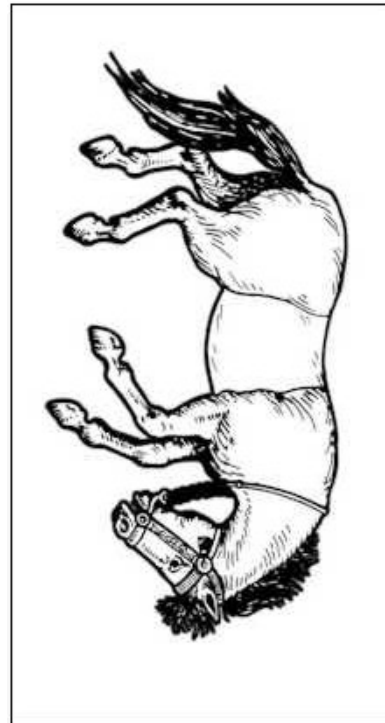
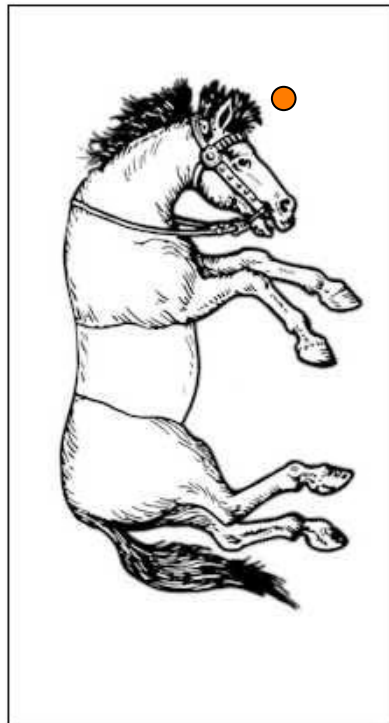


## Die Nummer mit den störrischen Pferden



Mathematische Idee:  
**Punktsymmetrie**

## Die Nummer mit den störrischen Pferden – Die Lösung



### Aufgabe

Ordne die Karten so an, dass jeder Reiter in korrekter Sitzposition auf einem Pferd sitzt.



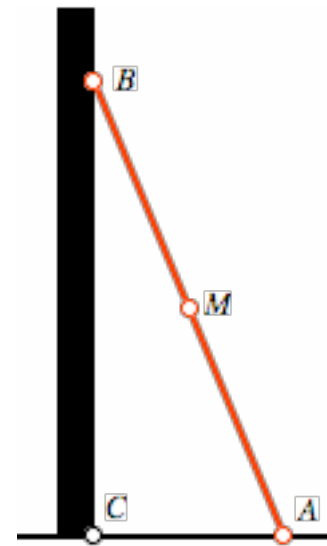
③ Die Nummer mit der fallenden Leiter *oder*  
**Manchmal täuscht die Intuition.**

## Die Nummer mit der Leiter

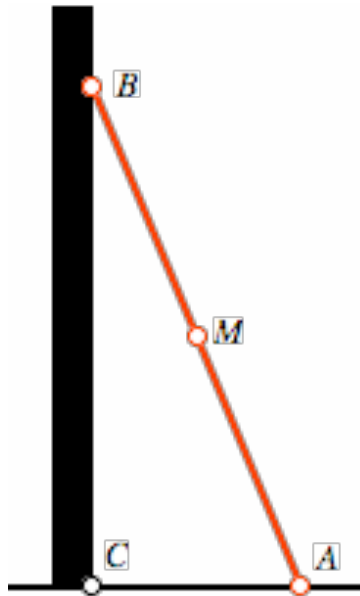


Bewegung des Leitemittelpunktes  $M$ ,  
wenn

- Leiterende  $A$  immer am Boden,
- Leiterspitze  $B$  immer an der Wand?



## Die Nummer mit der Leiter



*Die Lösung sehen ist das eine,  
kann man sie aber auch verstehen?*

Bewegung des Leitemittelpunktes M,  
wenn

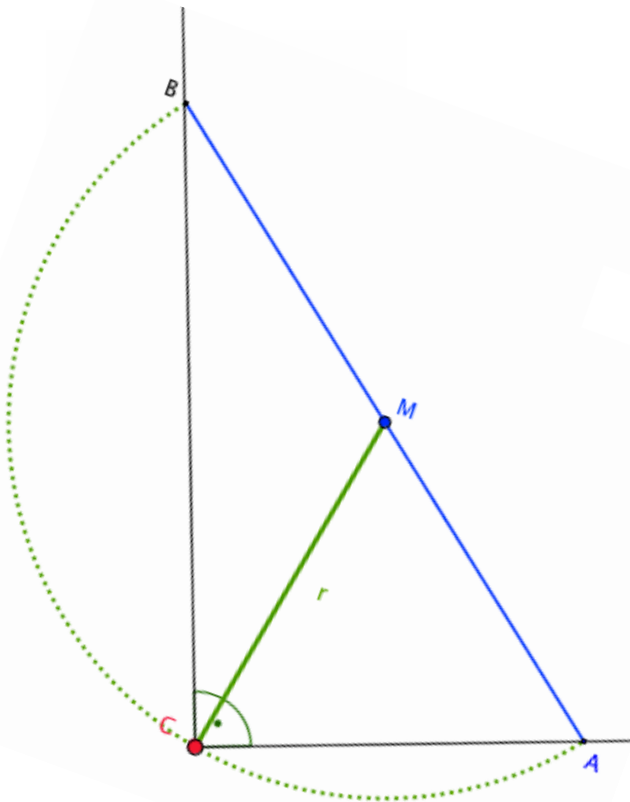
- Leiterende A immer am Boden,
- Leiterspitze B immer an der Wand?



Die Lösung: **Ein Viertelkreis!**



## Die Nummer mit der Leiter – Die Lösung



### Geozentrisches Weltbild:

Boden und Wand bleiben fest,  
die Leiter bewegt sich.

### Leiterzentrisches Weltbild:

Die Leiter bleibt fest,  
Boden und Wand bewegen sich.



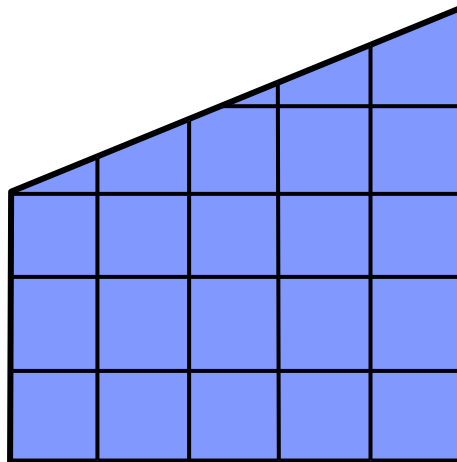
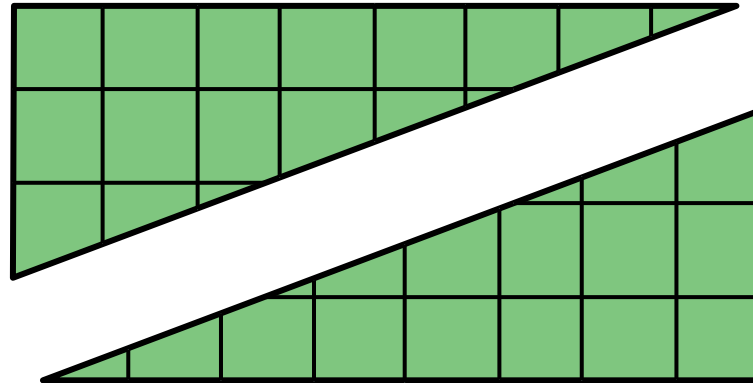
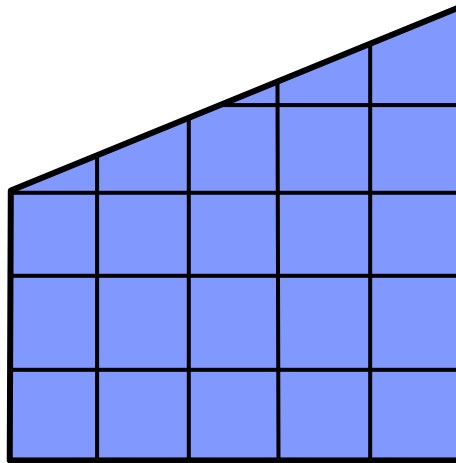
### Begründung:

- ① Punkt C auf Thales(halb-)kreis über AB
- ② CM Radius des Kreises,  
also immer gleich lang
- ③ Geozentrisch:  
C fix, also M auf Viertelkreis

④ Die Nummer mit der verschwindenden Fläche *oder*  
**Vermeintlich Unmögliches fordert heraus.**



## Die Nummer mit der verschwindenden Fläche

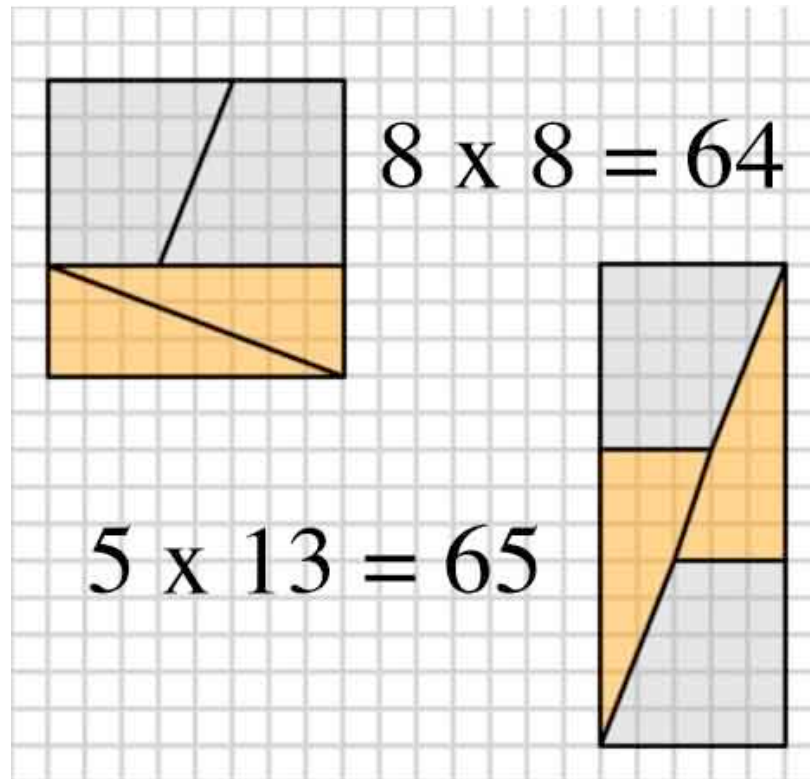


Bilde aus den vier Teilen **ein Quadrat**.  
Welchen **Flächeninhalt** hat es?

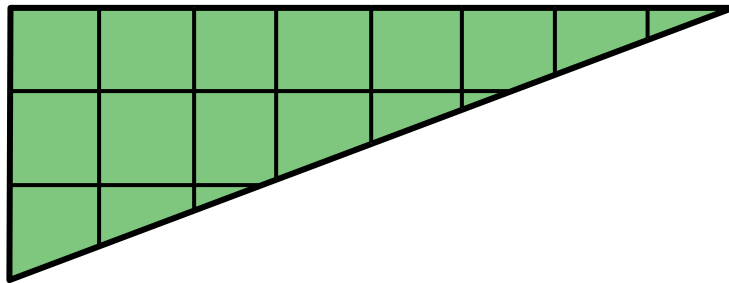
Bilde dann aus den vier Teilen **ein Rechteck**.  
Welchen **Flächeninhalt** hat es?

**Vergleiche** die Flächeninhalte!

## Die Nummer mit der verschwindenden Fläche



## Die Nummer mit der verschwindenden Fläche - Erklärung



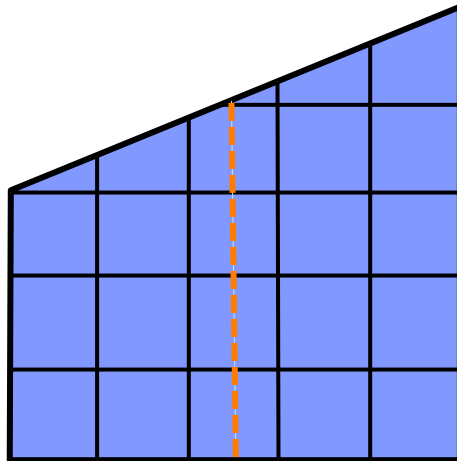
**Flächeninhalt Dreieck:**

$$A = (3 \cdot 8) : 2 = 12$$

**Flächeninhalt Trapez:**

$$\text{Mittellinie } m = (3 + 5) : 2 = 4$$

$$\text{Flächeninhalt } A = 4 \cdot 5 = 20$$

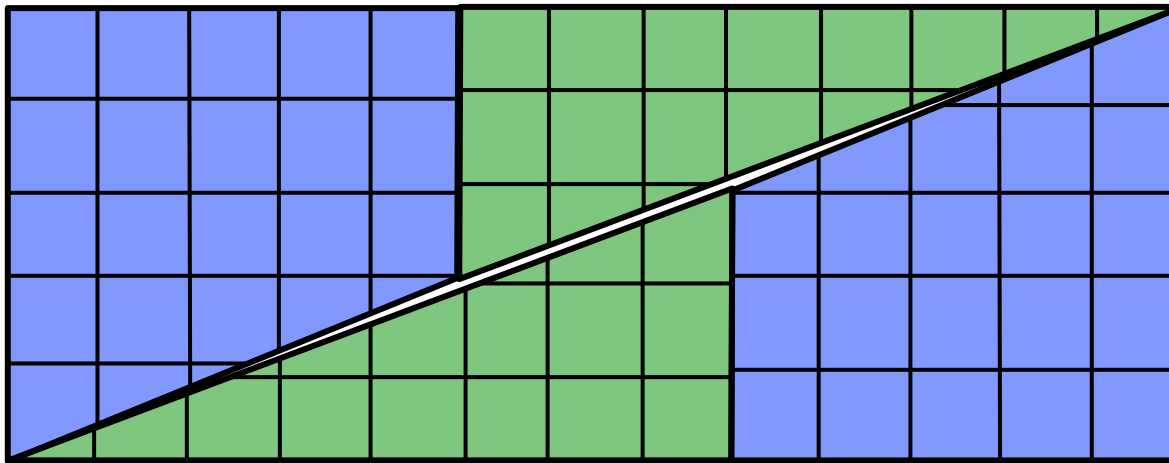


**Flächeninhalt aller vier Teile:**

$$A = 12 + 12 + 20 + 20 = 64$$

***Beim Rechteck ist das Problem!***

## Die Nummer mit der verschwindenden Fläche



**Entlang der Diagonalen des Rechtecks entsteht ein Loch in der Form eines Parallelogramms!**

Dieses Loch ergibt die zusätzliche Flächeneinheit.

**⑤ Die Nummer mit dem Seil *oder*  
Verstehen kostet manchmal ganz schön Einsatz.**

## Die Nummer mit dem Seil



Seil 1 m länger als der  
Umfang des Fussballs  
respektive der Erdkugel

Schätze den Abstand  
des Seils

- zum Fussball
- zur Erdkugel.

## Die Nummer mit dem Seil – Die Lösung



Die Lösung:  $\Delta d = 16 \text{ cm}$

Für den Fussball oder  
die Erdkugel?

**Für beide!!**



## Die Nummer mit dem Seil – Verstehen Teil 1



*Formel (mit  $\pi = 3.14\dots$ ):*

Umfang = Durchmesser  $\cdot \pi$ , also

**Durchmesser = Umfang :  $\pi$**

*Fussball:*

Durchmesser  $d = 70 \text{ cm} : \pi \approx 22.4 \text{ cm}$

*Seil:*

Durchmesser  $d = 170 \text{ cm} : \pi \approx 54.1 \text{ cm}$

*Abstand:*

$\Delta d = (54.1 \text{ cm} - 22.4 \text{ cm}) : 2 \approx \mathbf{16 \text{ cm}}$



## Die Nummer mit dem Seil – Verstehen Teil 1



$\Delta d = ?$

*Formel (mit  $\pi = 3.14\dots$ ):*

Umfang = Durchmesser  $\cdot \pi$ , also

**Durchmesser = Umfang :  $\pi$**

*Erdkugel:*

$d \approx 40'000 \text{ km} : \pi$

$\approx 12'732.3954474 \text{ km}$

*Seil:*

$d \approx 40'000.001 \text{ km} : \pi$

$\approx 12'732.3957657 \text{ km}$

*Abstand:*

$\Delta d = (12'732.3957657 \text{ km}$

$- 12'732.3954474) : 2 \approx 16 \text{ cm}$

## Die Nummer mit dem Seil – Verstehen Teil 1



Formel (mit  $\pi = 3.14\dots$ ):

**Durchmesser = Umfang :  $\pi$**

kurz:  $d = U : \pi$

Beliebige Kugel:

$d = U : \pi$  (Umfang in Metern)

Seil:

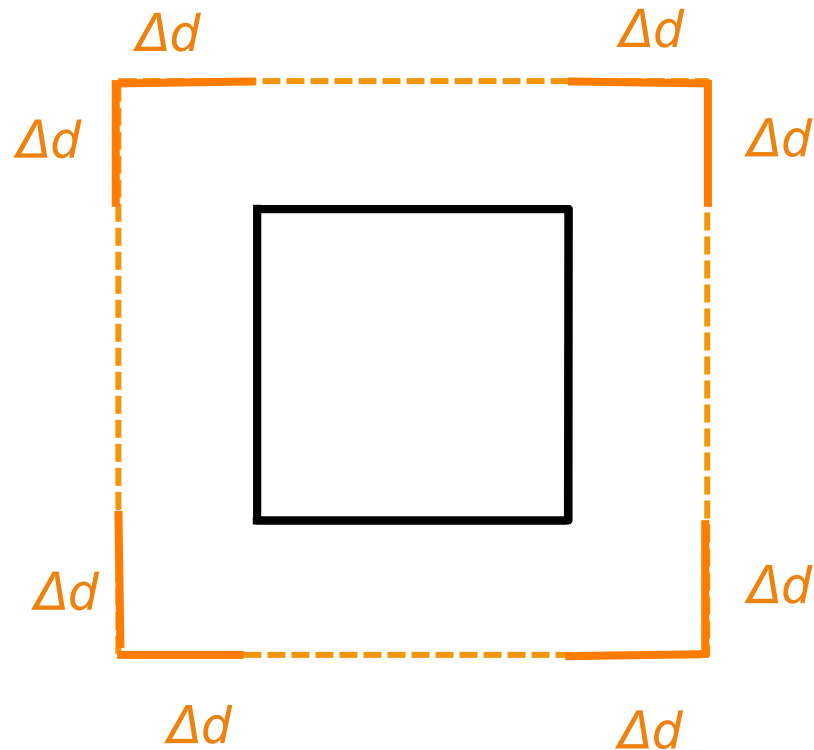
$d = (U + 1) : \pi$  (Umfang in Metern)

Abstand:

$$\begin{aligned} \Delta d &= [(U + 1) : \pi - U : \pi] : 2 \\ &= [U:\pi + 1:\pi - U:\pi] : 2 \\ &= 1 : 2\pi \approx \mathbf{16 \text{ cm}} \end{aligned}$$

*Aber nun einmal ehrlich ... Trotzdem fällt es schwer, dies zu akzeptieren, oder?*

## Die Nummer mit dem Seil – Verstehen Teil 2

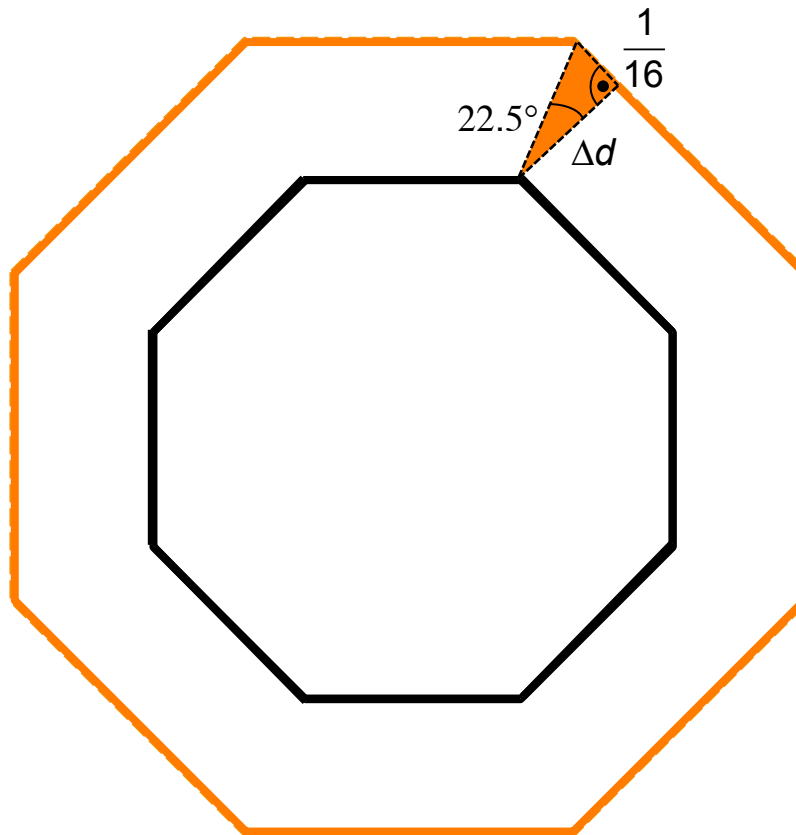


Um ein **Quadrat** wird eine Schnur gelegt, deren Umfang 1 m länger ist...

$$8 \cdot \Delta d = 1 \text{ m, also } \Delta d = \mathbf{12.5 \text{ cm,}}$$

*unabhängig von der Grösse des Quadrates!*

## Die Nummer mit dem Seil – Verstehen Teil 2



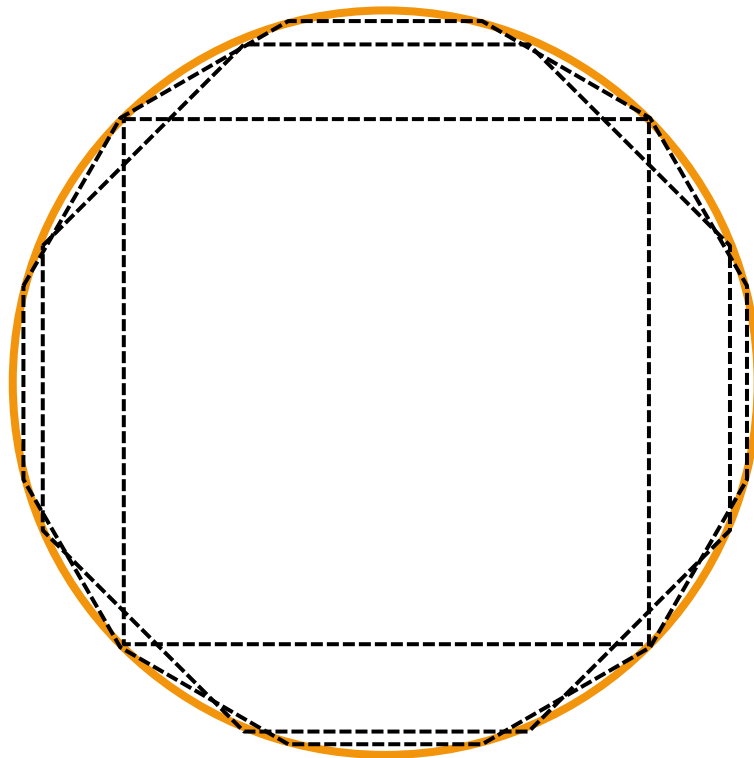
Um ein **Achteck** wird eine Schnur gelegt, deren Umfang 1 m länger ist...

$$\Delta d = 1 : (16 \cdot \tan(22.5^\circ))$$

$\approx$  **15 cm,**

*unabhängig von der Grösse des Achtecks!*

## Die Nummer mit dem Seil – Verstehen Teil 2



Je mehr Ecken, desto besser nähert das Vieleck den Kreis an.

Bei jedem Vieleck ist derselbe Vorgang durchführbar, die Grösse des Vielecks spielt keine Rolle: **Die Zwischenstücke machen den Abstand aus.**

Dies gilt also auch beim Kreis.

## Magie der Mathematik – Von der Verblüffung zum Verstehen

### Denkanstöße für den Mathematikunterricht:

- ① Zahlenkarten → Mathematische Zaubertricks sind beliebt.
- ② Störrische Pferde → Knobeln mit Material gefällt.
- ③ Fallende Leiter → Manchmal täuscht die Intuition.
- ④ Verschwindende Fläche → Vermeintlich Unmögliches fordert heraus.
- ⑤ Seil → Verstehen kostet manchmal ganz schön Einsatz.



## Magie der Mathematik – Von der Verblüffung zum Verstehen


Fundgruben für Ideen:

Bücher mit mathematischen  
Knobelaufgaben,

zu erkennen an Titeln wie

«Spiele mit Zahlen», «Spass mit Mathematik»,  
«Kabarett der Mathematik» ...

Internationaler Wettbewerb «**Känguru der  
Mathematik**» für 3. – 12. Klasse  
(2012: fast 20'000 CH-Teilnehmende),  
via <http://www.mathe-kaenguru.ch>  
alte Aufgabenserien downloaden



**Besten Dank für die Aufmerksamkeit!**

